

СОПРОВОДИТЕЛЬНЫЙ ЛИСТ

к итоговому тесту для внутренней аттестации учащихся по обществознанию за курс 6 класса

Данная тестовая работа направлена на оценку знаний учащихся по итогам курса «Обществознание» за 6 класс. Тестовая работа разработана на основе УМК Л.Н. Боголюбова. Состоит из 2-х вариантов, в каждом из которых 16 вопросов. По уровню сложности вопросы делятся на части «А» и «В» согласно ранжированию ГИА-2012. В каждом варианте вопросов из части «А» - 10, из части «В» - 6. За правильный ответ на вопрос части «А» учащийся получает 1 балл, за часть «В» - 2 балла. Максимальное количество баллов – 22 балла. В связи с тем, что дети в 6 классе впервые знакомятся с предметом «Обществознание» для них была создана особая шкала перевода баллов в оценки, где порог качества был увеличен в 2 раза и составил 13 баллов. Норма выставления оценок утверждена на заседании ШМО учителей истории и обществознания:

Баллы	0-13	14-16	17-19	20-22
Оценка	«2»	«3»	«4»	«5»

ИСТОЧНИКИ:

1. Л.Н. Боголюбов, Л.Ф. Иванова. Учебник для общеобразовательных учреждений «Обществознание», 6 класс. Москва «Просвещение», 2009
2. Л.Н. Боголюбов, Л.Ф. Иванова. Методический рекомендации «Обществознание», 6 класс. Москва «Просвещение», 2008
3. А.В. Поздеев. Поурочные разработки по обществознанию к УМК Л.Н. Боголюбова, Л.Ф. Ивановой (М.: Просвещение), 6 класс. Москва «ВАКО», 2008
4. Сборник заданий (ГИА-обществознание). Москва «Просвещение», 2011

Итоговая контрольная работа по обществознанию за курс 6 класса
1 вариант

Ф.И. ребенка _____

Класс _____

1. Приведи 5-ть отличий, по которым человек отличается от животного. Ответы впиши в таблицу:

Человек
1.
2.
3.
4.
5.

2. Верны ли следующие суждения о личности?

А. Личность возникает в результате биологического развития человека

Б. Огромное влияние на становление личности оказывает общество

- 1) верно только А
- 2) верно только Б
- 3) верны оба суждения
- 4) оба суждения не верны



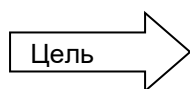
3. Верны ли следующие суждения?

А. Человек может определить, каков он, сравнивая себя с другими людьми

Б. Самопознание позволяет выявить в человеке его важнейшие особенности, сущность его «Я»

- 1) верно только А
- 2) верно только Б
- 3) верны оба суждения
- 4) оба суждения не верны

4. Установи последовательность, используя следующие слова: средства, цель, результат



5. К социальным потребностям относятся:

- 1) потребность в еде
- 2) потребность в получении знаний и умений
- 3) потребность в тепле
- 4) потребность в труде

6. Перечисли состав двухпоколенной семьи: _____

7. Вставьте в текст следующие пропущенные слова: потребности, труд, благо.

«...Важной характеристикой семьи является совместный _____ и ведение домашнего хозяйства. Общая деятельность помогает удовлетворить необходимые для жизни _____, среди которых есть жизненно важные – в пище, одежде, отдыхе...» Какое слово получилось лишним _____

8. Прочитай ступени образования и запиши правильную последовательность цифр:

_____	_____	_____	_____	_____
-------	-------	-------	-------	-------

- 1) дошкольное образование
- 2) среднее (полное) образование
- 3) начальное образование
- 4) основное (общее) образование
- 5) высшее образование

9. Установи соответствие:

Понятия	Определения
А) Товар	1) продукт, произведенный на продажу
Б) Услуга	2) денежная компенсация, которую работник получает в обмен на свой труд
В) Зарботная плата	3) действие, приносящее пользу другому человеку

Результат запиши в таблицу:

А	Б	В

10. Вычеркни лишнее слово: смекалка, творчество, обыденность, мастерство. Объясни, почему слово оказалось лишним _____

11. Слово «демократия» в переводе с греческого языка означает:

- 1) власть избранных
- 2) власть богатых
- 3) власть народа
- 4) безвластие

12. Так называется наука о гербах

- 1) нумизматика
- 2) генеалогия
- 3) геральдика
- 4) фалеристика

13. В каком веке официально двуглавый орел стал символом власти государя на Руси?

14. Основной Закон страны, закрепляющий определенное государственное устройство, имеющий высшую юридическую силу, называется _____

15. Перечислите в последовательности сверху в низ цвета Российского флага

16. Впиши в кроне дерева качества, которыми должен обладать патриот (не менее 5-ти)



Итоговый тест

Итоговая контрольная работа по обществознанию за курс 6 класса 2 вариант

Ф.И. ребенка _____

Класс _____

1. Приведи 5-ть отличий, по которым животное отличается от человека. Ответы впиши в таблицу:

Животное
1.
2.
3.
4.
5.

2. Верны ли следующие суждения о личности?

- А. Личность формируется во взаимодействии с другими людьми
Б. Личность формируется на протяжении всей жизни человека
- 1) верно только А
2) верно только Б
3) верны оба суждения
4) оба суждения не верны

3. Установи соответствие:

Понятия	Определения
А) Самопознание	1) оценка самого себя как личности; важный регулятор поведения
Б) Самооценка	2) нужда в чем-либо необходимом для поддержания жизнедеятельности и развития организма, человеческой личности, общества в целом; внутренний побудитель активности
В) Потребность	3) изучение личностью собственных психологических и физических особенностей, осмысление самого себя; оно начинается в младенчестве и продолжается всю жизнь

Результат запиши в таблицу:

А	Б	В

4. Что объединяет слова: игра, учение, труд?

- 1) это потребность организма человека
2) это виды деятельности
3) это качества человека
4) это способ получения заработка

5. Потребность в отдыхе относится к:

- 1) духовной потребности
2) моральной потребности
3) биологической потребности
4) социальной потребности

6. Перечисли состав трехпоколенной семьи: _____

7. Слово «экономика» в переводе с греческого означает:

- 1) закон ведения домашнего хозяйства
2) закон, как тратить деньги
3) правило, как добывать деньги
4) правило, как получать выгоду

8. В нашей стране обязательно:

- 1) высшее образование
- 2) неполное высшее образование
- 3) среднее специальное образование
- 4) основное общее образование

9. Человек, покровительствующий какому-нибудь делу, начинанию, помогающий науке и искусству

- 1) магнат
- 2) бизнесмен
- 3) меценат
- 4) предприниматель

10. Вычеркни лишнее слово: творчество, новое, ценное, однообразное. Объясни, почему слово оказалось лишним _____

11. Напиши название субъекта Российской Федерации, в котором ты живешь _____

12. На гербе Российской Федерации изображен орел, который держит в лапах

- 1) державу и меч
- 2) скипетр и державу
- 3) пучок молний
- 4) меч и скипетр

13. При каком правителе двуглавый орел становится символом Московского государства?

- 1) Дмитрий Донской
- 2) Иван III
- 3) Иван Калита
- 4) Петр I

14. Согласно Конституции РФ человек имеет право на:

1.
2.
3.
4.
5.

15. Перечислите в последовательности сверху в низ цвета флага Краснодарского края _____

16. Впиши в кроне дерева национальности, которые имеются на территории Краснодарского края (не менее 5-ти)

